



وزارة التربية والتعليم
مديرية التربية والتعليم بمحافظة

امتحان تجريبي شهادة إتمام الدراسة الثانوية العامة

نموذج ثانوية عامة

المادة : الجغرافيا السياسية

التاريخ : / / ٢٠١

زمن الإجابة : ثلاث ساعات



عدد أوراق الإجابة (٩) ورقة
بخلاف الغلاف
وعلى الطالب مسؤولية المراجعة
والتأكد من ذلك قبل تسليم الكراسة

مجموع الدرجات

توقيع		الدرجة	الأسئلة من إلى
المراجع	المقدر		

رقم المراقبة

--

مجموع الدرجات بالحروف :

إمضاءات المراجعين :

عدد أوراق الإجابة (٩) ورقة
بخلاف الغلاف
وعلى الطالب مسؤولية المراجعة
والتأكد من ذلك قبل تسليم الكراسة

وزارة التربية والتعليم

امتحان تجريبي شهادة إتمام الدراسة الثانوية العامة

المادة : الجغرافيا السياسية

التاريخ : / / ٢٠١

زمن الإجابة : ثلاث ساعات

رقم المراقبة

--



نموذج ثانوية عامة

اسم الطالب (رباعيًا) /

المدرسة :

رقم الجلوس :

الإدارة :

الحافظة :

-١

-٢

توقيع الملاحظين بصحة البيانات :
ومطابقة عدد أوراق كراسة الإجابة
عند استلامها من الطالب .

تعليمات :

عزيزى الطالب:

١. اقرأ السؤال بعناية، وفكر فيه جيداً قبل البدء فى إجابته.
٢. أجب عن جميع الأسئلة ولا تترك أى سؤال دون إجابة ، الأسئلة المقالية تتم الإجابة عليها بحيث لا تتجاوز إجابتك المساحة المخصصة
٣. يوجد فى هذا الاختبار نوعان من الأسئلة :

■ أسئلة الاختيار من متعدد:

ظلل الدائرة ذات الرمز الدال على الإجابة الصحيحة تظليلاً كاملاً لكل سؤال، كما فى المثال:

١. تتمشى الحدود بين شيلى والأرجنتين على امتداد جبال.....

- أ الألب
ب البرانس
ج الإنديز
د الهيمالايا

■ الأسئلة المفتوحة:

اكتب إجابتك فى المكان المخصص لكل سؤال، كما فى المثال:

٢. قارن بين كلا من:

الأمة، والدولة من حيث وجود السلطة واللغة والعادات والتقاليد مع ذكر أمثلة.

ملحوظة: فى حالة وجود أكثر من إجابة عن الأسئلة الموضوعية (الصواب والخطأ) ، لن تقدر إلا الإجابة الأولى.

فى حالة تظليل أكثر من دائرة فى أسئلة (الاختيار من متعدد) سيتم إلغاء درجة السؤال

٥- عدد أسئلة الكتيب (٣٢) سؤالاً .

٦- عدد صفحات الكتيب (١٨) صفحة بخلاف الغلاف.

٧- تأكد من ترقيم الأسئلة ، ومن عدد صفحات كتيبك ، فهى مسؤوليتك.

٨- زمن الاختبار (٣) ساعات .

٩- الدرجة الكلية للاختبار (٦٠) درجة

أجب عن الأسئلة التالية:

١. تم اختيار نواكشوط كعاصمة لموريتانيا علي أساس

- أ) الدفاع والحماية.
ب) السيادة القومية.
ج) سهولة المواصلات
د) العامل التاريخي

٢. اكتب كلمة (صواب) أو كلمة (خطأ) أمام العبارة الآتية مع ذكر السبب في الحالتين :
تعتبر وظيفة الفصل بين الدول هي الوظيفة الأكثر أهمية للحدود

.....
.....
.....

٣. بم تفسر؟
أثر التقدم التكنولوجي في قوة الدولة .

.....
.....

٤. ماذا يحدث إذا ..؟

زادت عمليات النحت والإرساب للأنهيار .

٥. ما النتائج المترتبة علي؟
التغيرات المناخية في غرب أفريقيا علي حركة الرعاة

٦. يتفاوت نطاق المياه من ثلاث أميال إلى ثلاثمائة ميل بحري وفقاً لظروف كل دولة"

في ضوء العبارة السابقة وضح

أ_ زيادة أهمية المياه الإقليمية حديثاً .

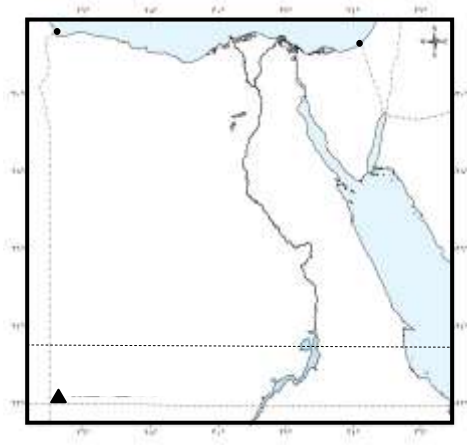
ب- الأهمية الاقتصادية للرصيف القاري

ج- أسباب النزاع بين تونس وليبيا

٧- أمامك خريطة صماء لمصر، وقع عليها ما يلي :

(١) حد هندسي يسير مع دائرة عرض

(٢) ممر استراتيجي



٨- دولة ذات حدود بحيرية وتعد من الدول الحبيسة دولة

أ) أوغندا.

ب) إثيوبيا.

ج) تنزانيا.

د) كينيا.

٩ اكتب كلمة (صواب) أو كلمة (خطأ) أمام العبارة الآتية مع ذكر السبب في الحالتين :
من مقومات التكامل الاقتصادي التنوع والتشابه بين الدول .

١٠ بم تفسر؟
تتعدد أسباب الهجرة القسرية

١١ ماذا يحدث إذا ..؟

لم يوجد نظام نقل متطور ومتكامل في الدولة .

١٢ ما النتائج المترتبة علي؟

المساحة الكبيرة للدولة (علي قوتها).

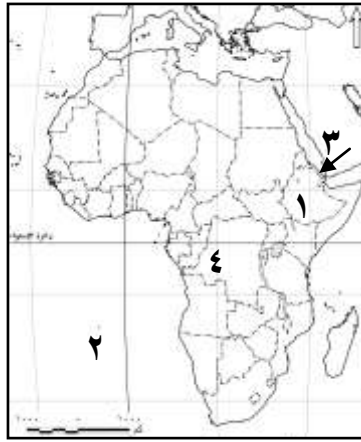
قارن بين كل من :

موقف الأمم المتحدة من مشكلة كشمير ومشكلة سبتة ومليلة .

ما أوجه الشبه والاختلاف بين الأمة والدولة ؟

١٥ الجهة الرئيسية لاتخاذ القرار للاتحاد الأوروبي هي.....

- أ) المفوضية الأوروبية.
ب) مجلس الاتحاد الأوروبي.
ج) البرلمان الأوروبي.
د) المجلس الأوروبي.



١٦ أمامك خريطة لقارة أفريقيا وضح عليها

مدلول الأرقام :

١ - دولة حبيسة

٢ - المحيط

٣ - مضيق

٤ - دولة مندمجة ذات بروز

١٧ اكتب كلمة (صواب) أو كلمة (خطأ) أمام العبارة الآتية مع ذكر السبب في الحالتين :
يختلف تأثير الأقلية في الدولة حسب الانتشار الجغرافي .

١٨ بم تفسر؟
يسهم التنوع المناخي في درجة الاكتفاء الذاتي للدول .

١٩ ماذا يحدث إذا ..؟

وجدت قوة عسكرية للتكتل الاقتصادي .

٢٠ ما النتائج المترتبة علي؟

صدور الإعلان العالمي لحقوق الإنسان ١٩٤٨ م .

قارن بين كل من :

٢١

خصائص كل من النظام الرئاسي - النظام البرلماني .

ما المقصود بالقانون الدولي ؟

٢٢

اكتب كلمة (صواب) أو كلمة (خطأ) أمام العبارة الآتية مع ذكر السبب في الحالتين :
تختلف الخصائص السكانية في مجلس التعاون لدول الخليج العربي .

٢٣

٢٤ أول من استخدم مصطلح الجيوبولتيك هو

- أ) كيلين.
ب) راتزل.
ج) ماهان.
د) ماكيندر.

٢٥ بم تفسر؟

لا يوجد نظام حكم مثالي علي مستوي العالم.

٢٦ ما النتائج المترتبة علي

ارتفاع أعداد فئة صغار السن في الدول النامية .

٢٧ أيهما أفضل من وجهة نظرك الحدود الجبلية أم الحدود النهرية؟ ولماذا؟

٢٨ قارن بين كل من :

آراء أرسطو وآراء ابن خلدون في الجغرافيا السياسية .

٢٩ ما المقصود بالحدود السياسية؟

٣٠. حدد أهداف الجغرافيا السياسية .

٣١. تتماشي الحدود السياسية بين فرنسا وألمانيا مع امتداد نهر


- أ) الرون.
ب) اللوار.
ج) السين.
د) الراين.

٣٢. اكتب كلمة (صواب) أو كلمة (خطأ) أمام العبارة الآتية

مع ذكر السبب في الحالتين :

حصلت الصين علي مقعد دائم في مجلس الأمن لتقلها الاقتصادي و العسكري .

مع أطيب التمنيات بالتوفيق،،،



د/محمد عبدالرحمن
مصمم