

المجموعة الأولى: الأسئلة من (١ - ٩)

(١) اجب عن (أ) أو (ب) :

(أ) أكتب المفهوم العلمي الذي تدل عليه العبارة التالية:

" القانون الذي ينص على أن شدة التيار الكهربائي المار في الموصل تتناسب تناسباً طردياً مع فرق الجهد بين طرفيه عند ثبوت درجة الحرارة " .

(ب) أكتب المفهوم العلمي الذي تدل عليه العبارة التالية:

" الشغل المبذول لنقل شحنة مقدارها واحد كولوم خلال الدائرة الكهربائية، خارج وداخل المصدر "

(٢) اجب عن (أ) أو (ب):

(أ) أكتب المفهوم العلمي الذي تدل عليه العبارة التالية:

" زاوية انحراف مؤشر الجلفانومتر عن موضع الصفر عند مرور تيار كهربائي في ملفه شدته الوحدة " .

(ب) أكتب المفهوم العلمي الذي تدل عليه العبارة التالية:

" كثافة الفيض المغناطيسي الذي يولد قوة مقدارها نيوتن واحد على سلك طوله متر واحد يمر به تيار كهربائي شدته أمبير واحد، عندما يكون السلك عمودياً على خطوط الفيض المغناطيسي " .

(٣) اجب عن (أ) أو (ب) :

(أ) اختر الإجابة الصحيحة:

أحد تطبيقات الحث المتبادل بين ملفين

(المحول الكهربائي - المولد الكهربائي - المحرك الكهربائي)

(ب) اختر الإجابة الصحيحة:

الأساس العلمي الذي يبني عليه عمل أفران الحث لصهر الفلزات

(التيارات موحدة الاتجاه - التيارات المستمرة - التيارات الدوامية)

(٤) اختر الإجابة الصحيحة :

تنحرف إبرة بوصلة مغناطيسية صغيرة عند وضعها موازية لسلك يمر به تيار كهربائي دليل على تولد مجال حول السلك .

(مغناطيسي - كهربائي - حراري)

(بقية الأسئلة في الصفحة الثانية)

(٥) اختر الإجابة الصحيحة :

يستمر ملف المحرك الكهربائي في الدوران عندما يصبح مستواه عمودياً على اتجاه المجال المغناطيسي نتيجة
(القصور الذاتي - الحث الذاتي - الفيض المغناطيسي)

(٦) اختر الإجابة الصحيحة :

عمود كهربائي قوته الدافعة الكهربائية (6 V) مهمل المقاومة الداخلية يتصل بمقاومتين قيمتهما (R) ،
و(3R) جميعها على التوالي . فيكون فرق الجهد بين طرفي المقاومة (R) يساوي
(3 V - 2 V - 1.5 V)

(٧) اختر الإجابة الصحيحة لكل مما يلي :

سلكان مستقيمان متوازيان طول كل منهما (L) بينهما مسافة عمودية (d) ، ويمر بكل منهما تيار
كهربائي له نفس الشدة (I) . اختر الإجابة الصحيحة :
أولاً : مقدار القوة المتبادلة بين السلكين بدلالة كلا من البعد العمودي بينهما (d) ، وشدة التيار في كل
منهما (I) يساوي

$$\left(\frac{\mu I^2 L}{2\pi d} \quad \frac{\mu I^2}{2\pi d} \quad \frac{\mu I L}{2\pi d} \right)$$

ثانياً : العامل الذي يؤثر على اتجاه القوة هو

(اتجاه التيار في السلكين - شدة التيار في السلكين - المسافة بين السلكين)

(٨) اختر نوع الطاقة المناسب لكل فراغ :

يقوم الدينامو بتحويل الطاقة (الميكانيكية - الكهربائية - الكيميائية)
إلى طاقة (ميكانيكية - كهربائية - كيميائية)

(٩) اختر الإجابة الصحيحة :

سقط شعاع ضوئي قدرته 2 W وسرعته 3×10^8 m/s على سطح ما . فما مقدار القوة التي يؤثر بها
الشعاع على السطح عند انعكاسه عنه ؟
(6.7×10^{-9} N - 7.5×10^{-7} N - 1.3×10^{-8} N)

المجموعة الثانية: الأسئلة من (١٠ - ١٨)

(١٠) اجب عن (أ) أو (ب) :

(أ) أكتب المفهوم العلمي الذي تدل عليه العبارة التالية:

" القاعدة التي تنص على أن التيار المستحث في موصل يكون في الاتجاه الذي يعاكس التغير
المسبب له "

(بقية الأسئلة في الصفحة الثالثة)

(ب) اكتب المفهوم العلمي الذي تدل عليه العبارة التالية:

" القانون الذي ينص على أن القوة الدافعة الكهربائية المستحثة في موصل تتناسب طرديًا مع المعدل الزمني لتغير الفيض المغناطيسي الذي يقطع الموصل".

(١١) أجب عن (أ) أو (ب) :

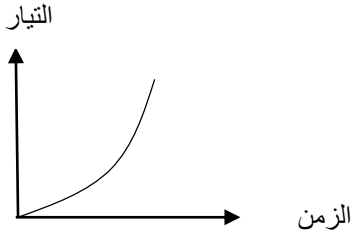
(أ) اختر الإجابة الصحيحة :

المحولات الكهربائية الموجودة عند محطات توليد الكهرباء هي محولات رافعة

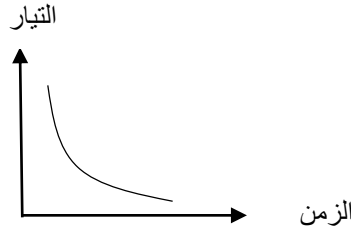
(للجهد - للتيار - للقدرة)

(ب) اختر الإجابة الصحيحة :

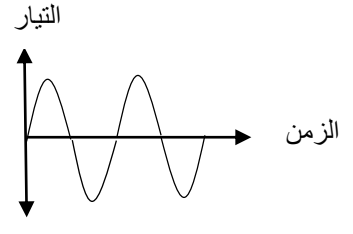
الشكل البياني الذي يمثل التيار الكهربائي الناتج من المولد الكهربائي



شكل (٣)



شكل (٢)



شكل (١)

(١٢) أجب عن (أ) أو (ب) :

(أ) اختر الإجابة الصحيحة :

يتولد شرر كهربائي بين طرفي المفتاح لحظة فتح دائرة كهربائية تتكون من ملف مغناطيسي كهربائي قوي وبطارية بسبب تولد قوة دافعة كهربائية مستحثة

(مترددة - طردية - عكسية)

(ب) اختر الإجابة الصحيحة :

لا تتولد قوة دافعة كهربائية مستحثة في ملف لولبي عند وجود قضيب مغناطيسي ساكن بداخله بسبب أن

الفيض المغناطيسي داخل الملف

(يزداد - يقل - ثابت)

(١٣) اختر الإجابة الصحيحة :

عند سقوط فوتون من أشعة إكس أو جاما على إلكترون حر ، تزداد

(سرعة الفوتون - سرعة الإلكترون - كتلة الإلكترون)

(بقية الأسئلة في الصفحة الرابعة)

(١٤) اختر الإجابة الصحيحة :

فكرة عمل الجلفانومتر ذو الملف المتحرك هي نفسها فكرة عمل

(المحول الكهربى - المولد الكهربى - المحرك الكهربى)

(١٥) اختر الإجابة الصحيحة :

يجب أن تكون القوة الدافعة الكهربائية للعمود الكهربى المستخدم داخل الأوميتتر

(ثابتة - متغيرة - كبيرة جدًا)

(١٦) أجب عن كل مما يلى :

أولاً: أكتب المفهوم العلمى الذى تدل عليه العبارة التالية:

" النسبة بين الطاقة الكهربائية الناتجة عن الملف الثانوى للمحول الكهربى إلى الطاقة الكهربائية المستنفذة فى الملف الابتدائى "

ثانياً : اختر الإجابة الصحيحة : عندما تكون هذه النسبة مساوية للواحد الصحيح، يكون المحول
(رافع - خافض - مثالى)

(١٧) اختر الإجابة الصحيحة :

سلكان (Z & Y) مصنوعان من نفس المادة ولهما نفس المقاومة الكهربائية . فإذا كان طول السلك (Y) ضعف طول السلك (Z) ، فإن مساحة مقطع السلك (Y) مساحة مقطع السلك (Z) .

(أكبر من - أقل من - تساوى)

(١٨) اختر الإجابة الصحيحة :

فولتميتر مقاومة ملفه 20Ω يقيس فرق جهد أقصاه $1V$. فإن قيمة مضاعف الجهد اللازم توصيله على التوالى مع ملفه حتى يقيس فرق جهد أقصاه $10V$ تساوى

(100Ω - 180Ω - 200Ω)

المجموعة الثالثة: الأسئلة من (١٩ - ٢٧)

(١٩) اجب عن (أ) أو (ب) :

(أ) أكتب المفهوم العلمى الذى تدل عليه العبارة التالية:

" مقلوب المقاومة النوعية لمادة موصل "

(ب) أكتب المفهوم العلمى الذى تدل عليه العبارة التالية:

" ممانعة الموصل لمرور التيار الكهربى "

(بقية الأسئلة فى الصفحة الخامسة)

(٢٠) اجب عن (أ) أو (ب) :

(أ) اختر الإجابة الصحيحة :

عند وضع قطعة من الحديد في قلب ملف يمر به تيار كهربى متردد ، فإن درجة حرارتها

(تنخفض - ترتفع - لا تتأثر)

(ب) اختر الإجابة الصحيحة :

يصنع قلب المحول الكهربى على شكل شرائح رقيقة من الحديد المطاوع معزولة عن بعضها البعض لتقليل

(التيارات الدوامية - كفاءة المحول - مقاومة القلب الحديدى)

(٢١) اجب عن (أ) أو (ب) :

(أ) اختر الإجابة الصحيحة :

وحدة قياس معامل الحث الذاتى لملف

(فولت.ثانية/أمبير - نيوتن/أمبير.متر - نيوتن.متر)

(ب) اختر الإجابة الصحيحة :

وحدة قياس تردد التيار المتردد هي

(جول/ث - نذبذة/ث - كولوم/ث)

(٢٢) اختر الإجابة الصحيحة :

القوة المؤثرة على سلك مستقيم طوله (L) يمر به تيار كهربى (I) ، موضوع عمودياً على مجال مغناطيسى منتظم (B) تحسب من العلاقة

$$\left(F = \frac{B}{IL} \right) - (F = B I L) - \left(F = \frac{B L}{I} \right)$$

(٢٣) اختر الإجابة الصحيحة :

يتحرر إلكترون من سطح فلز بطاقة حركة (E) إذا سقط على الفلز فوتون طاقته

(أكبر من - أقل من - تساوي)

(٢٤) اختر الإجابة الصحيحة :

يكون اتجاه عزم ثنائى القطب المغناطيسى لملف

(موازي لمستوى الملف - عمودى على مستوى الملف - فى نفس مستوى الملف)

(٢٥) لديك ملف ثانوى موجود بجوار ملف ابتدائى متصل ببطارية ، وريوستات ، ومفتاح مغلق.

اختر طريقتين مختلفتين مما يلي يمكن بهما توليد قوة دافعة كهربية مستحثة عكسية فى الملف الثانوى:

(فتح مفتاح دائرة الملف الابتدائى - زيادة شدة التيار فى الملف الابتدائى - تقريب الملف الابتدائى من

الملف الثانوى - إبعاد الملف الابتدائى عن الثانوى - تقليل شدة التيار فى الملف الابتدائى)

(بقية الأسئلة فى الصفحة السادسة)

(٢٦) اختر الإجابة الصحيحة :

يتركب أميتر من جلفانومتر حساس مقاومته (R_g) ومجزئ تيار متصل بملفه مقاومته ($0.1 R_g$). فإذا كان أقصى تيار يمر في ملف الجلفانومتر (I_g) ، فإن أقصى تيار يمكن أن يقيسه الأميتر يكون.....
(أكبر من I_g - أقل من I_g - مساوياً I_g)

(٢٧) اختر الإجابة الصحيحة :

يتحرك سلك مستقيم طوله 20 cm بسرعة 5 m/s في اتجاه عمودي على فيض مغناطيسي منتظم كثافته 0.1 T فتكون القوة الدافعة المستحثة بين طرفيه تساوي.....
(0.1 فولت - 0.36 فولت - 36 فولت)

المجموعة الرابعة: الأسئلة من (٢٨ - ٣٦)

(٢٨) اجب عن (أ) أو (ب) :

(أ) أكتب المفهوم العلمي الذي تدل عليه العبارة التالية:

" القانون الذي ينص على أن الطول الموجي الذي تصاحبه أقصى شدة إشعاع (λ_m) يتناسب عكسياً مع درجة الحرارة المطلقة لمصدر الإشعاع".

(ب) أكتب المفهوم العلمي الذي تدل عليه العبارة التالية:

" كم من الطاقة مركز في حيز صغير جداً ، وله كتلة وكمية تحرك".

(٢٩) أختار الإجابة الصحيحة:

(أ) العلاقة الرياضية المعبرة عن قانون أمبير الدائري

$$\left(\beta = \frac{\mu I}{d} \right) - \left(\beta = \frac{\mu I}{2d} \right) - \left(\beta = \frac{\mu I}{2\pi d} \right)$$

(ب) أختار الإجابة الصحيحة:

العلاقة الرياضية المعبرة عن عزم الازدواج المؤثر على ملف مكون من عدة لفات يمر به تيار كهربى وموضوع فى مجال مغناطيسي.....

$$(\tau = \beta I A N \sin \theta) - (\tau = I A N \sin \theta) - (\tau = \beta I A \sin \theta)$$

(٣٠) اجب عن (أ) أو (ب) :

(أ) اختر الإجابة الصحيحة :

لتحديد اتجاه الفيض المغناطيسي حول سلك مستقيم يمر به تيار كهربى تستخدم قاعدة.....
(فلمنج لليد اليسرى - فلمنج لليد اليمنى - أمبير لليد اليمنى)

(بقية الأسئلة فى الصفحة السابعة)

(ب) اختر الإجابة الصحيحة :

لتحديد اتجاه القوة المؤثرة على سلك مستقيم يمر به تيار كهربى وموضوع عمودياً داخل مجال مغناطيسى تستخدم قاعدة

(فلننج لليد اليسرى - فلننج لليد اليمنى - أمبير لليد اليمنى)

(٣١) اختر الإجابة الصحيحة :

يمكن رؤية الأشخاص المتحركين في الظلام باستخدام أجهزة الرؤية الليلية بسبب الاشعاع الصادر عن تلك الأجسام.

(المرئي - الحراري - الضوئي)

(٣٢) اختر الإجابة الصحيحة :

القيمة الفعالة للتيار الكهربى المتردد = × القيمة العظمى لهذا التيار.

($\frac{1}{2}$ - $\frac{1}{0.707}$ - 0.707)

(٣٣) اختر الإجابة الصحيحة :

يتم تحضير بعض الفلزات بالتحليل الكهربى لمركباتها باستخدام

(تيار مستمر - تيار متردد - مجال مغناطيسى)

(٣٤) اختر الإجابة الصحيحة لكل مما يأتي :

أولاً: يمر التيار الكهربى إلى ملف الجلفانومتر عن طريق
(أسطوانة الحديد المطاوع - قاعدة الملف - الملفات الزنبركية)

ثانياً: الجهاز الذي له تدرج غير منتظم هو
(الأوميتير - الأميتير - الفولتميتر)

(٣٥) اختر الإجابة الصحيحة لكل مما يأتي:

أولاً: ملف مساحته 0.2 m^2 وضع عمودياً على مجال مغناطيسى منتظم كثافة الفيض 0.4 T ، فتكون كمية الفيض المغناطيسى التي تمر خلال الملف

(0 - 0.04 Wb - 0.08 Wb)

ثانياً: عندما استبدل الملف السابق بملف آخر مساحته A ووضع عمودياً على نفس المجال المغناطيسى كانت كمية الفيض المغناطيسى التي تمر خلال الملف 0.16 Wb فإن مساحة الملف A تساوي

(0.02 m^2 - 0.04 m^2 - 0.08 m^2)

(٣٦) اختر الإجابة الصحيحة :

وصلت أربعة مصابيح مقاومة كل منها 6Ω معاً على التوازي ، ثم وصلت المجموعة ببطارية قوتها الدافعة 12 V ومقاومتها الداخلية 0.5Ω فإن :

أولاً: المقاومة المكافئة للمصابيح تساوي

ثانياً: شدة التيار المار خلال البطارية

(24.5Ω - 2Ω - 1.5Ω)(2 A - 6 A - 24 A)

(بقية الأسئلة فى الصفحة الثامنة)

المجموعة الخامسة: الأسئلة من (٣٧ - ٤٥)

(٣٧) اجب عن (أ) أو (ب) :

(أ) اختر الإجابة الصحيحة :

أجهزة القياس الكهربائية التي تعتمد على قراءة مؤشر ينحرف على تدريج تسمى أجهزة

(تناظرية - رقمية - عيارية)

(ب) اختر الإجابة الصحيحة :

المجال المغناطيسي الناشئ عن مرور تيار كهربى في ملف لولبى يشبه المجال المغناطيسى

لمغناطيس على هيئة

(قرص - ساق - حذاء الفرس)

(٣٨) اجب عن (أ) أو (ب) :

(أ) اختر الإجابة الصحيحة :

الجزء الموجود في دائرة المحرك الكهربى والذي يسبب دوران ملفه دائماً في اتجاه واحد هو

(فرشتى الكربون - نصفى الأسطوانة المعدنية المعزولين - المصدر الكهربى المستمر)

(ب) اختر الإجابة الصحيحة :

عند وجود أسطوانة معدنية مشقوقة لنصفين معزولين في المولد الكهربى يتولد تيار كهربى

(متردد - ثابت الشدة فقط - موحد الاتجاه فقط)

(٣٩) اجب عن (أ) أو (ب) :

(أ) اختر الإجابة الصحيحة :

ينصح ببناء المساكن بعيداً عن أبراج الضغط العالى

(لتقليل الفقد فى الطاقة الكهربائية أثناء نقلها - للحفاظ على الصحة العامة والبيئة - لتقليل شدة التيار الذى يصل إليها)

(ب) اختر الإجابة الصحيحة :

من استخدامات الجلفانومتر

(تحديد اتجاه التيار فى الدائرة الكهربائية - قياس شدة التيارات المترددة الضعيفة - قياس القيمة الفعالة للتيار المتردد)

(٤٠) اختر الإجابة الصحيحة :

وظيفة الكاثود فى أنبوبة أشعة الكاثود

(يعمل على توجيه الإلكترونات - يتحكم فى شدة الشعاع الإلكتروني - تنبعث منه الإلكترونات)

(٤١) اختر الإجابة الصحيحة :

من العوامل التى تؤثر على معامل الحث الذاتى لملف

(عدد لفاته - نوع مادته - التيار المار فيه)

(بقية الأسئلة فى الصفحة التاسعة)

(٤٢) اختر الإجابة الصحيحة :

إذا أمكننا خفض قيمة التيار الكهربائي عبر الأسلاك إلى $\frac{1}{100}$ قيمتها الأصلية ، فإن الطاقة المفقودة تقل إلى ($\frac{1}{10000} - \frac{1}{1000} - \frac{1}{100}$) من قيمتها الأصلية.

(٤٣) اختر الإجابة الصحيحة :

يستخدم الأوميمتر لقياس (مقاومة موصل – الحث الذاتي لملف – القوة المؤثرة على سلك) ،

وتعتمد فكرة عمله على تطبيق قانون (أوم – فاراداي – فين)

(٤٤) اختر الإجابة الصحيحة لكل مما يلي :

أولاً : يتم توصيل الثلاجة والسخان الكهربائي وجهاز التلفزيون في المنزل بطريقة

(التوالي فقط – التوازي فقط – التوالي والتوازي معاً)

ثانياً : هذه الطريقة تسمح لهذه الأجهزة الكهربائية أن

(تعمل على نفس فرق الجهد – يمر بها نفس شدة التيار – يكون لها نفس المقاومة)

(٤٥) اختر الإجابة الصحيحة :

حلقة دائرية الشكل نصف قطرها (15.7 cm) يمر بها تيار كهربائي شدته (10 A) . فإذا كان معامل النفاذية المغناطيسية للهواء يساوي ($4 \pi \times 10^{-7} \text{ Wb/A.m}$) ، ($\pi = 3.14$) ، فإن كثافة الفيض المغناطيسي عند مركز الحلقة يساوي

($4 \times 10^{-7} \text{ T}$ - $4 \times 10^{-6} \text{ T}$ - $4 \times 10^{-5} \text{ T}$)

((انتهت الأسئلة))